



Antonio quiere construir un columpio en su casa, como el del dibujo.

Él quiere colocarlo en la rama de un árbol grande que tiene en la parte de atrás de su jardín.

Antonio fabricó una silla de madera para su columpio y le falta comprar la cuerda.

¿Cuántos metros de cuerda tiene que comprar para colocar su columpio?

Elige UN SOLO dato y resuelve el problema



¿A que altura está la rama?



¿Cuánto mide el árbol?



¿Cuánto cuesta la cuerda?



¿Cuántas cuerdas
tiene el columpio?

Mide 11 metros
hasta la copa

La rama está a
cinco metros del
suelo

El columpio tiene
dos cuerdas

La cesta cuerda
6 euros

Teresa recogió naranjas de sus árboles:
del primero 51 naranjas,
del segundo 38 naranjas,
del tercero las mismas que del segundo
y del cuarto bastantes naranjas. ¿Cuántas
naranjas bajó?



Elige UN SOLO dato y
resuelve el problema



¿Cuántos naranjos había?



¿Cuántas naranjas había
en el tercer árbol?



¿Cuántas naranjas había
en el cuarto árbol?



¿Cuánto tiempo tardó Teresa?

Había 42
naranjos

En todo el huerto
había 80
naranjos.


Tardó dos horas
en recogerlas
todas

38 naranjas

María está viendo un desfile desde la ventana de su casa.

Los soldados van desfilando por la calle en nueve filas, y cada una tiene muchos soldados.

¿Cuántos soldados forman parte del desfile?



Elige UN SOLO dato y resuelve el problema

¿Cuántas filas hay?



¿Cuántos soldados hay
En cada fila?



¿Cuántos jefes hay?



¿Cuántas gorras
tienen en total?



En cada fila hay
14 soldados

Hay nueve filas

Entre todos los
soldados tienen
126 gorras.

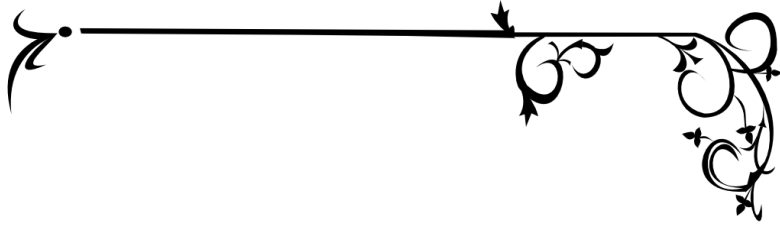
Hay cuatro jefes,
que van delante

Mi primo ha comprado
6 pinturas de colores
y una goma de borrar.

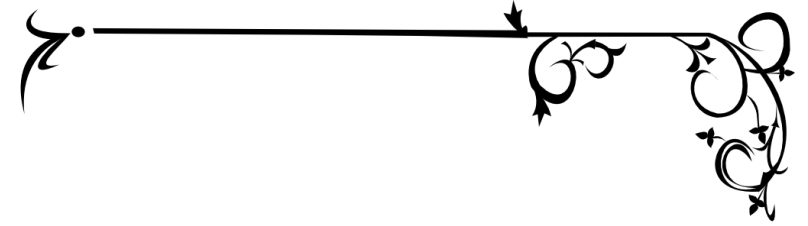
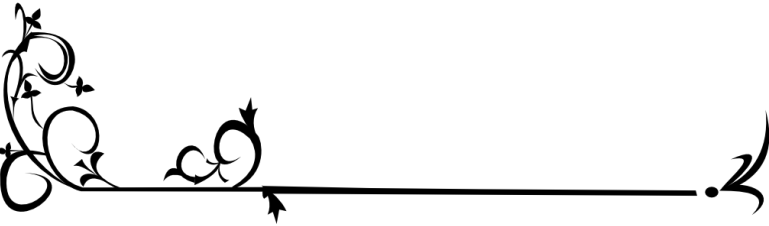
¿Cuánto dinero se ha
gastado en total?



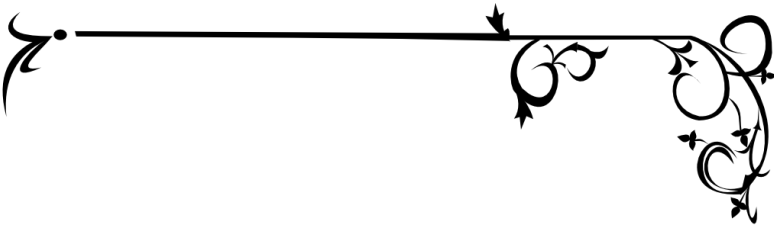

Elige UN SOLO dato y resuelve el problema



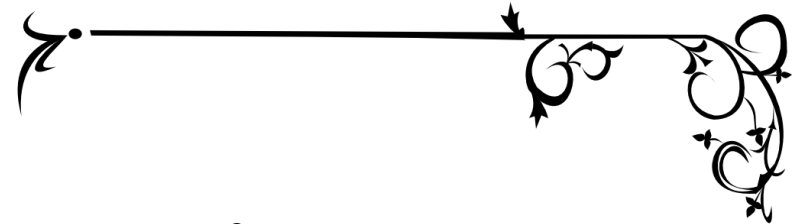
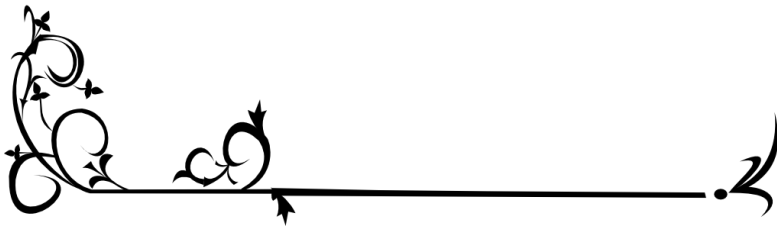
¿Cuánto cuesta la goma?




¿De qué color es la goma?



¿Cómo se llama mi primo?



¿Cuánto cuesta
un rotulador?



La goma es
de color rojo.

La goma
cuesta 2 €.

Un rotulador
cuesta 1 €.

Alberto

Tengo que repartir los libros que tengo en casa en las baldas de mi librería nueva.

Al revisar los libros he tenido que tirar algunos porque se habían mojado y estaban muy estropeados.

¿Cuántos libros pongo en cada balda?



Elige LA INFORMACIÓN
QUE NECESITES
y resuelve el problema

¿Cuántos libros tengo
y cuántos voy a tirar?

¿Cuántas baldas hay y
cuántos libros voy a tirar?

¿Cuántos libros tengo
y cuántas baldas hay?

¿Cuántos libros tengo
que tirar?

Hay doce baldas y voy a tirar 18 libras



Tengo 680 libras y voy a tirar 18



Voy a tirar 18 libras



Tengo 680 libras y hay doce baldas

